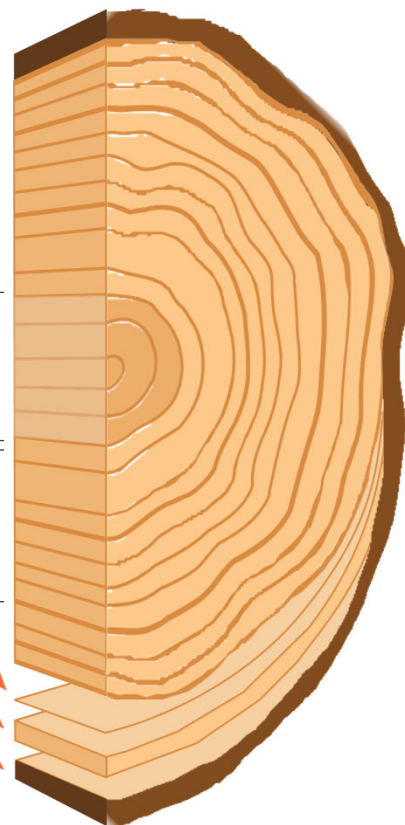




NOMBRE _____ FECHA _____

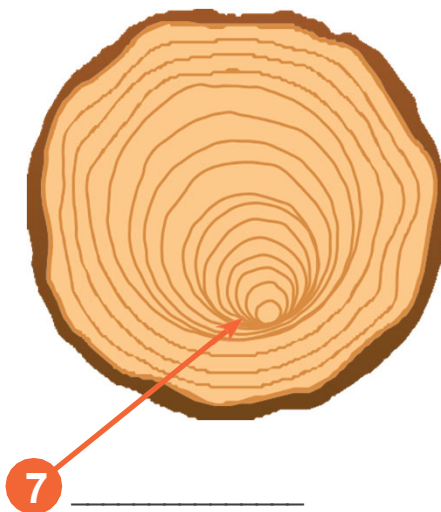

Use la imagen de la derecha para etiquetar las partes de la galleta del árbol:

- 1 _____
- 2 _____
- 3 _____
- 4 _____
- 5 _____



¿Qué edad tenía este árbol cuando fue cortado? _____

Pistas de galletas: ¿Qué pasó con el árbol donde apunta la flecha?



PROFESIONES

LOS CIENTÍFICOS DEL CLIMA estudian los patrones meteorológicos a largo plazo. Una forma en que aprenden sobre el clima que sucedió en el pasado es observar los anillos de crecimiento de los árboles. En años cálidos y húmedos, los árboles crecen más rápido y tienen anillos de crecimiento más anchos que en años fríos y secos.

AMO MI
TRABAJO VERDE

